

Questão 91

Para realizar o desentupimento de tubulações de esgotos residenciais, é utilizada uma mistura sólida comercial que contém hidróxido de sódio (NaOH) e outra espécie química pulverizada. Quando é adicionada água a essa mistura, ocorre uma reação que libera gás hidrogênio e energia na forma de calor, aumentando a eficiência do processo de desentupimento. Considere os potenciais padrão de redução (E°) da água e de outras espécies em meio básico, expressos no quadro.

Semirreação de redução	E° (V)
$2 \text{H}_2\text{O} + 2 \text{e}^- \rightarrow \text{H}_2 + 2 \text{OH}^-$	-0,83
$\text{Co}(\text{OH})_2 + 2 \text{e}^- \rightarrow \text{Co} + 2 \text{OH}^-$	-0,73
$\text{Cu}(\text{OH})_2 + 2 \text{e}^- \rightarrow \text{Cu} + 2 \text{OH}^-$	-0,22
$\text{PbO} + \text{H}_2\text{O} + 2 \text{e}^- \rightarrow \text{Pb} + 2 \text{OH}^-$	-0,58
$\text{Al}(\text{OH})_4^- + 3 \text{e}^- \rightarrow \text{Al} + 4 \text{OH}^-$	-2,33
$\text{Fe}(\text{OH})_2 + 2 \text{e}^- \rightarrow \text{Fe} + 2 \text{OH}^-$	-0,88

Qual é a outra espécie que está presente na composição da mistura sólida comercial para aumentar sua eficiência?

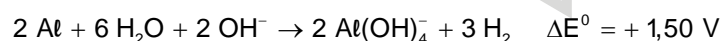
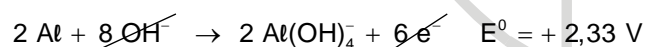
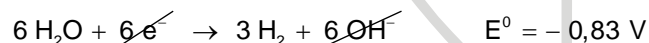
- A Al
- B Co
- C $\text{Cu}(\text{OH})_2$
- D $\text{Fe}(\text{OH})_2$
- E Pb

Assunto: Eletroquímica

Para aumentar a eficiência do processo de desentupimento, precisamos ter a liberação de H_2 , que ocorre por meio da reação de redução: $2 \text{H}_2\text{O} + 2 \text{e}^- \rightarrow \text{H}_2 + 2 \text{OH}^-$ $E^\circ = -0,83 \text{ V}$.

Para a água sofrer redução, é necessário que alguma espécie química sofra oxidação. Considerando apenas os potenciais padrão de redução expressos no quadro, apenas Al e Fe conseguem reduzir a água espontaneamente.

Reação com o Al:



Item: A