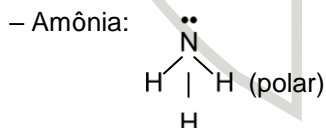
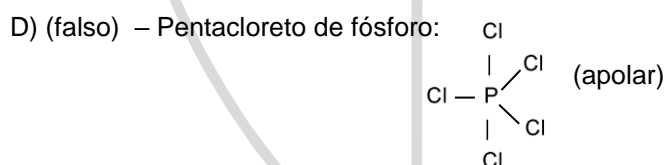
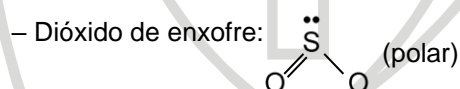
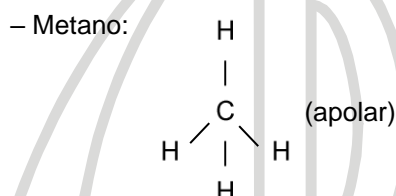


**54.** A polaridade da molécula está diretamente associada a sua geometria. Considerando os compostos apresentados a seguir, assinale a opção que contém somente moléculas apolares.

- A) Sulfeto de hidrogênio e metano.
- B) Dissulfeto de carbono e cloreto de berílio.
- C) Dióxido de carbono e dióxido de enxofre.
- D) Pentacloro de fósforo e amônia.

Assunto: Ligações Químicas



Item: B