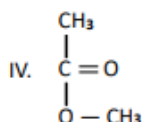
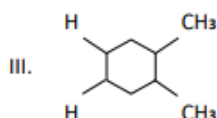
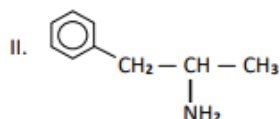
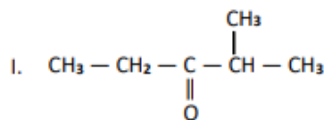


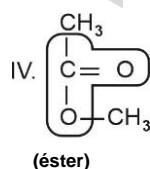
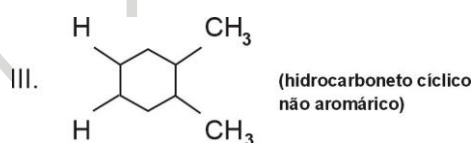
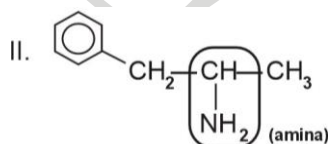
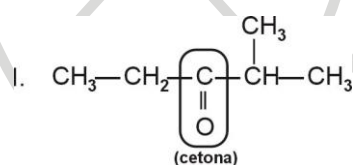
53. Atente para os seguintes compostos orgânicos representados por suas fórmulas estruturais:



Considerando os compostos acima apresentados, assinale a afirmação verdadeira.

- A) Os compostos II e III são aromáticos.
- B) Os compostos I e IV pertencem à função cetona.
- C) O composto II é nitrogenado e pertence à função das amidas.
- D) O composto IV é oxigenado e pertence à função dos ésteres.

Assunto: Funções Orgânicas



Item: D